



NOMBRE DEL ESTUDIANTE: \_\_\_\_\_

1. COMPLETA LA SERIE DE NÚMEROS DEL 0 AL 20

0 \_\_\_\_\_, 2 \_\_\_\_\_, 4 \_\_\_\_\_, 6 \_\_\_\_\_, 8 \_\_\_\_\_, 10 \_\_\_\_\_, 12 \_\_\_\_\_, 14 \_\_\_\_\_, 16 \_\_\_\_\_, 18 \_\_\_\_\_, 20

2. RODEA CON UN COLOR LOS NUMEROS IMPARES

1      2      3      4      5      6      7      8      9      10      11      12

14      15      16      17      18      19      20

3. SUMAS.                      CUENTA Y LUEGO UBICA EL NÚMERO QUE CORRESPONDE Y COLOCA EL RESULTADO

+  =

+  =

+  =

+  =

+  =

+  =

4. RESTEMOS

4 - 2 =

5 - 3 =

6 - 5 =

3 - 1 =

3 - 2 =

4 - 2 =


5 - 1 =

6 - 3 =

4 - 3 =

5 - 1 =

5. DIBUJA UN CONJUNTO DE OBJETOS Y NOMBRALO CON UNA LETRA



COMPLETA CON EL SÍMBOLO DE 


Elemento  $\in$  conjunto


 o 

elemento  $\notin$  conjunto


 RRESPONDA.  
observa los conjuntos y luego completa

$a$







$a$




$u$



$u$





$a$




$u$

$u$







$a$




$u$



$u$



$a$



$a$

7.DIBUJA LAS SIGUIENTES FIGURAS PLANAS:

Círculo                                  Cuadrado                                  Triángulo                                  Rectángulo




--	--	--	--

8.DIBUJA UN EJEMPLO DE CADA UNA DE LAS SIGUIENTES LÍNEAS:



Horizontal                          vertical                          Oblicua                          Quebrada                          Curvas                          Espiral

--	--	--	--	--	--

TRAZA UNA LÍNEA Y RELACIONA LA CANTIDAD CON EL NÚMERO.



1  
5  
9  
2  
7  
3  
4  
6  
8  
10



1 2 3

A CONTAR!

Pinta los cuadros según el número que se te indica.

